

NIVEAU 1

DAMWERKBOEK

Niveau 1 Damdiploma

Naam

Versie: 2017

DAMWERKBOEK VOOR DE JEUGDDAMMER

Inleiding

Met dit werkboek leer je al snel hoe mooi dammen kan zijn! In eigen tempo ga je verschillende trucjes leren. Als je veel opdrachten goed hebt gemaakt, dan kan je het examen maken voor je eerste damdiploma: Niveau 1! Het werkboek is in ongeveer 6 – 8 lessen van een 45 minuten goed te doen. Werk netjes en denk heel goed na!

Uitleg

Lees altijd eerst goed wat er boven aan de bladzijde en onder een diagram geschreven staat. Zo leer je hoe je opdrachten moet gaan maken en krijg je andere belangrijke aanwijzingen.

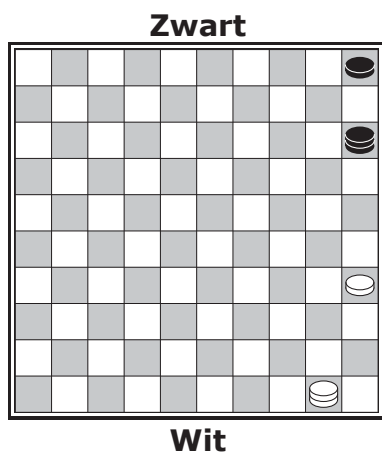
Inhoud

<u>Les</u>	<u>Thema</u>	<u>Paginanr.</u>	<u>Les</u>	<u>Thema</u>	<u>Paginanr.</u>
1.	Basiskennis	3	11.	Slagkeus	16
2.	Spelregels	4	12.	Een vrij tempo	17
3.	Slaan met schijf of dam	5	13.	Een plakker	18
4.	Prikken	6	14.	Driegever	19
5.	Éénggever	7	15.	Openingstruc	20
6.	Aanvallen	9	16.	Voorspel de uitslag	21
7.	Tweegever	10	17.	Combineren met de dam	22
8.	Verdedigen	12	18.	Damvangst in een volle stand	23
9.	Eindspel	13	19.	Zetjes gemengd	24
10	Meerslagzetjes	15			

ZO SPELEN WE

Wit van beneden naar boven.
Zwart van boven naar beneden.

Zo zien de schijven en dammen op het diagram er uit.
Een diagram is een plaatje van een dambord.

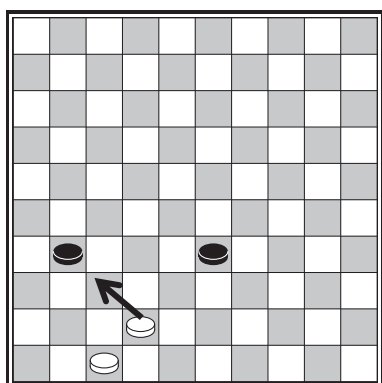


VOORBEELD

Gebruik voor het aangeven van de winnende zet een pijltje.
In het voorbeeld haalt wit een zetje uit met de zet waar de pijl is aangegeven.

WIT AAN ZET

Dit moet je goed onthouden:
wit is in alle diagrammen aan zet!



1. Basiskennis

Opdracht: Zetten, slaan en dam of geen dam?

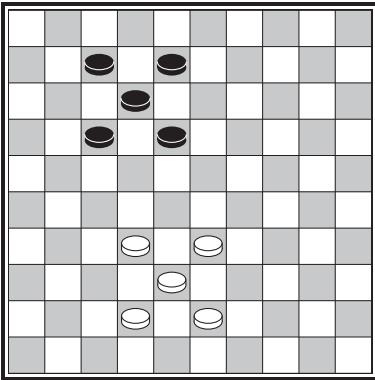


Diagram 1

Hoeveel keuzes heeft wit om te zetten?

- A. 5
- B. 6
- C. 7

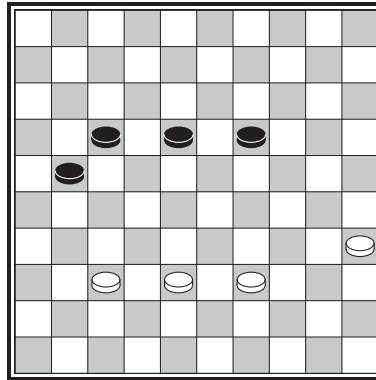


Diagram 2

Hoeveel keuzes heeft wit om te zetten?

- A. 6
- B. 7
- C. 8

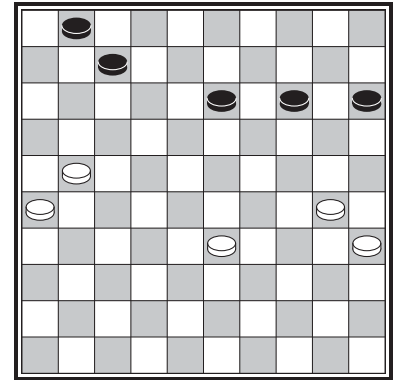


Diagram 3

Hoeveel keuzes heeft wit om te zetten?

- A. 6
- B. 7
- C. 8

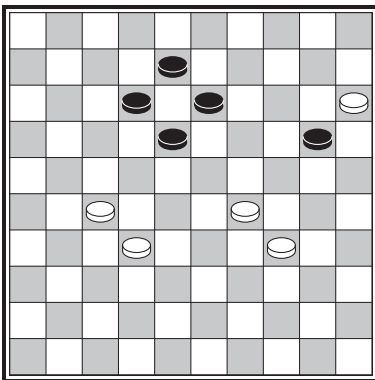


Diagram 4

Kan wit hier slaan?

- A. Ja
- B. Nee

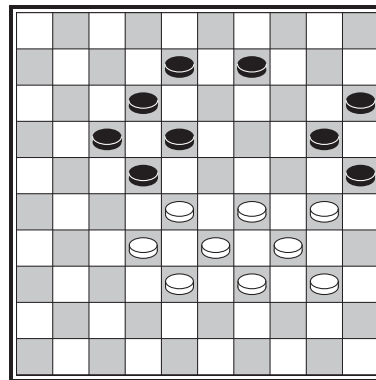


Diagram 5

Kan wit hier slaan?

- A. Ja
- B. Nee

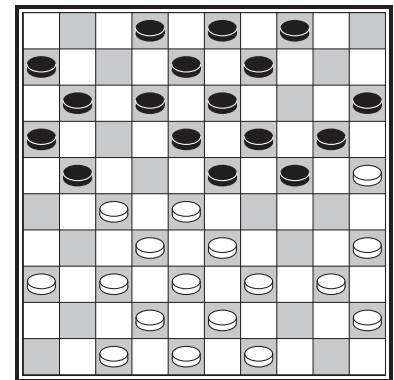


Diagram 6

Kan wit hier slaan?

- A. Ja
- B. Nee

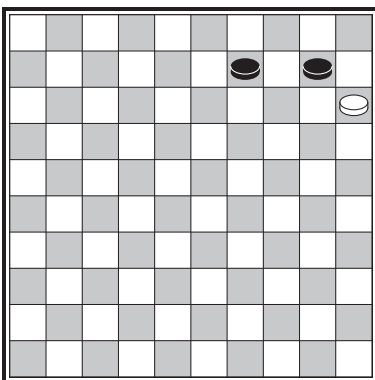


Diagram 7

Krijgt wit een dam?

- A. Ja
- B. Nee

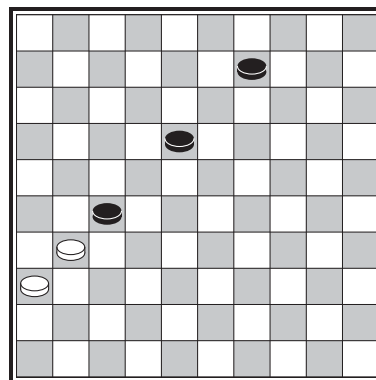


Diagram 8

Krijgt wit een dam?

- A. Ja
- B. Nee

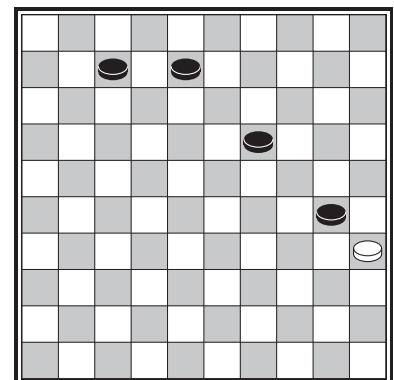


Diagram 9

Krijgt wit een dam?

- A. Ja
- B. Nee

2. Spelregels

Opdracht A: Zijn de volgende spelregels goed of fout?

	Goed	Fout
1. Het bord ligt goed als je linksonder een donker veld ziet.	<input type="checkbox"/>	<input type="checkbox"/>
2. Je mag met een schijf wel vooruit, maar niet achteruit zetten.	<input type="checkbox"/>	<input type="checkbox"/>
3. Je mag wel vooruit, maar niet achteruit slaan.	<input type="checkbox"/>	<input type="checkbox"/>
4. Met een dam <u>moet</u> je zo ver schuiven als je kunt.	<input type="checkbox"/>	<input type="checkbox"/>
5. Slaan is verplicht.	<input type="checkbox"/>	<input type="checkbox"/>
6. Aanraken is zetten.	<input type="checkbox"/>	<input type="checkbox"/>
7. Als jouw tegenstander vergeet te slaan, mag je voorzeggen hoe hij/zij moet slaan.	<input type="checkbox"/>	<input type="checkbox"/>
8. Meerslag gaat voor.	<input type="checkbox"/>	<input type="checkbox"/>
9. Als je tegenstander vergeet te slaan, mag jij de schijf waarmee hij/zij moest slaan wegpakken.	<input type="checkbox"/>	<input type="checkbox"/>
10. Als een schijf aan de overkant komt, wordt deze <u>altijd</u> een dam.	<input type="checkbox"/>	<input type="checkbox"/>
11. Wie een dampartij wint, krijgt één punt en wie remise (gelijkspel) speelt, krijgt een half punt.	<input type="checkbox"/>	<input type="checkbox"/>
12. Je hebt gewonnen als je tegenstander geen enkele zet meer kan doen.	<input type="checkbox"/>	<input type="checkbox"/>

Opdracht B: Pas de damregels toe! Wit is aan zet. Wat wordt de uitslag?

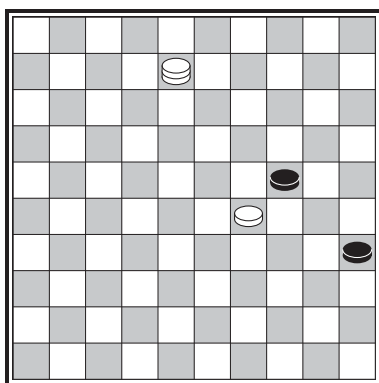


Diagram 10

- A. Wit wint
- B. Zwart wint
- C. Remise

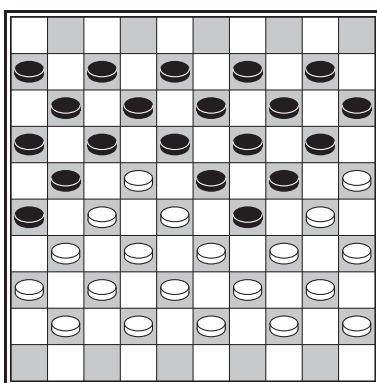


Diagram 11

- A. Wit wint
- B. Zwart wint
- C. Remise

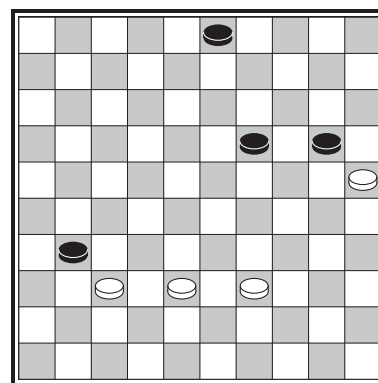


Diagram 12

- A. Wit wint
- B. Zwart wint
- C. Remise

3. Slaan met schijf of dam

Opdracht: Zie jij hoe wit moet slaan? Geef de slagroute aan. Let op: meerslag gaat voor!

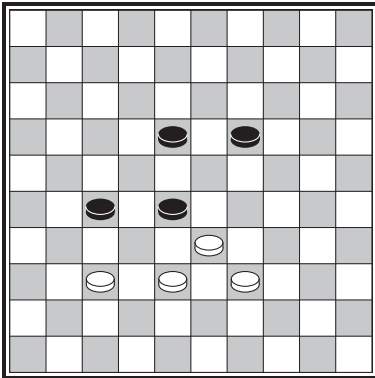


Diagram 13

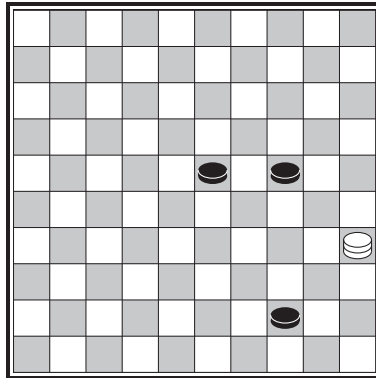


Diagram 14

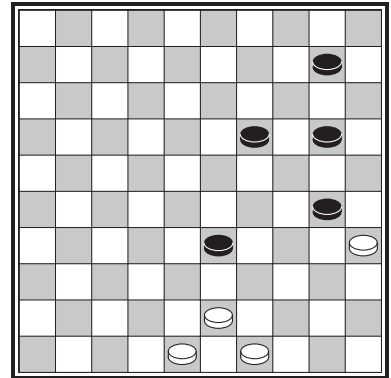


Diagram 15

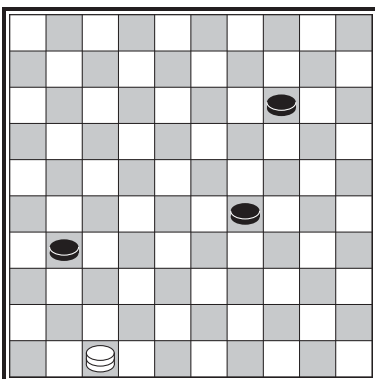


Diagram 16

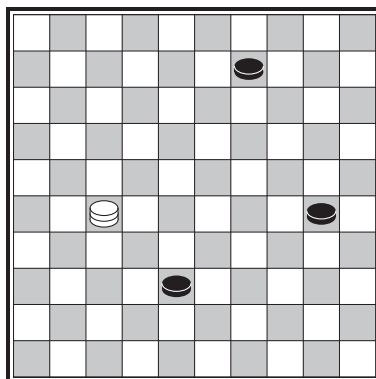


Diagram 17

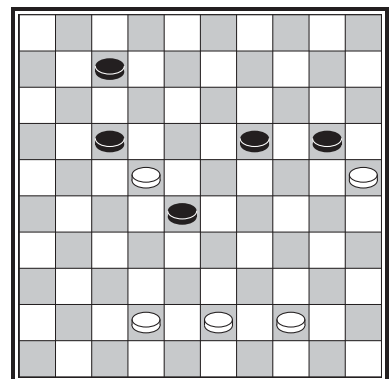


Diagram 18

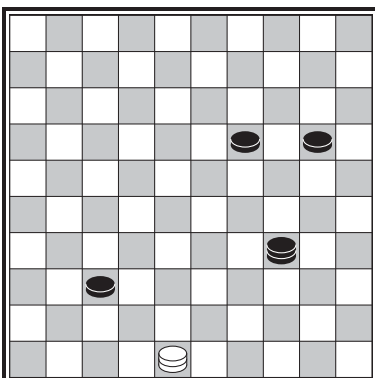


Diagram 19

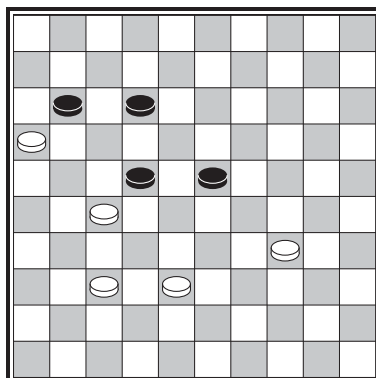


Diagram 20

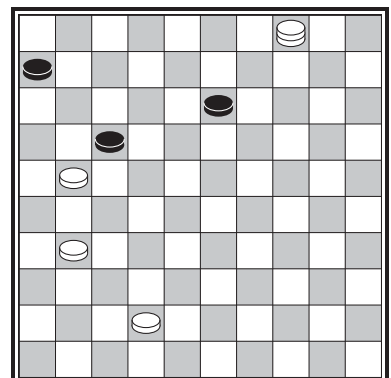


Diagram 21

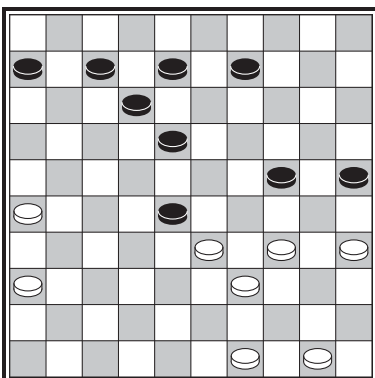


Diagram 22

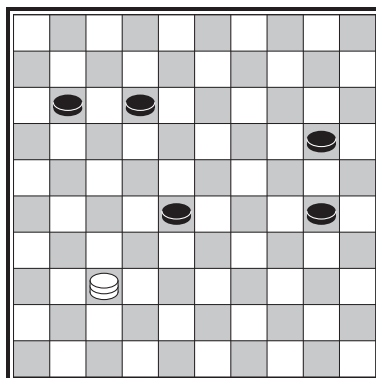


Diagram 23

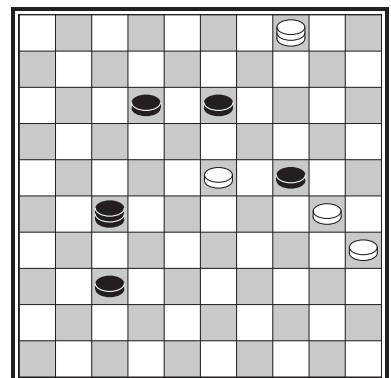


Diagram 24